

Roll No.

रोल नं.

--	--	--	--	--	--	--	--

Candidates must write the Code on the title page of the answer-book.

परीक्षार्थी कोड को उत्तर-पुस्तिका के मुख-पृष्ठ पर अवश्य लिखें ।

- Please check that this question paper contains 8 printed pages and 2 pages of maps.
- Code number given on the right hand side of the question paper should be written on the title page of the answer-book by the candidate.
- Please check that this question paper contains 26 questions.
- **Please write down the Serial Number of the question before attempting it.**
- 15 minutes time has been allotted to read this question paper. The question paper will be distributed at 10.15 a.m. From 10.15 a.m. to 10.30 a.m., the student will read the question paper only and will not write any answer on the answer script during this period.
- कृपया जाँच कर लें कि इस प्रश्न-पत्र में मुद्रित पृष्ठ 8 हैं तथा 2 पृष्ठ मानचित्रों के हैं ।
- प्रश्न-पत्र में दाहिने हाथ की ओर दिए गए कोड नम्बर को छात्र उत्तर-पुस्तिका के मुख-पृष्ठ पर लिखें ।
- कृपया जाँच कर लें कि इस प्रश्न-पत्र में 26 प्रश्न हैं ।
- कृपया प्रश्न का उत्तर लिखना शुरू करने से पहले, प्रश्न का क्रमांक अवश्य लिखें ।
- इस प्रश्न-पत्र को पढ़ने के लिए 15 मिनट का समय दिया गया है । प्रश्न-पत्र का वितरण पूर्वाह्न में 10.15 बजे किया जाएगा । 10.15 बजे से 10.30 बजे तक छात्र केवल प्रश्न-पत्र को पढ़ेंगे और इस अवधि के दौरान वे उत्तर-पुस्तिका पर कोई उत्तर नहीं लिखेंगे ।

## GEOGRAPHY (Theory)

### भूगोल (सैद्धान्तिक)

Time allowed : 3 hours ]

निर्धारित समय : 3 घण्टे]

[ Maximum marks : 70

[अधिकतम अंक : 70

#### General Instructions :

- There are 26 questions in all.
- All questions are compulsory.
- Marks of each question are indicated against it.
- Question numbers 1 to 10 are very short answer questions carrying 1 mark each. Answer to each of these questions should not exceed 20 words.
- Question numbers 11 to 20 are short answer questions carrying 3 marks each. Answer to each of these questions should not exceed 80 words.
- Question numbers 21 to 25 are long answer questions carrying 5 marks each. Answer to each of these questions should not exceed 150 words.

- (vii) Question number 26 is related to identification or locating and labelling of geographical features on maps.
- (viii) Outline maps of the **World and India** provided to you must be attached within your answer-book.
- (ix) Use of **templates or stencils** for drawing outline maps is allowed.

**सामान्य निर्देश :**

- (i) प्रश्नों की कुल संख्या 26 है ।
- (ii) सभी प्रश्न अनिवार्य हैं ।
- (iii) प्रत्येक प्रश्न के सामने उसके अंक दिये हैं ।
- (iv) प्रश्न संख्या 1 से 10 तक अति लघु-उत्तर वाले प्रश्न हैं और प्रत्येक प्रश्न का 1 अंक है । इनमें से प्रत्येक प्रश्न का उत्तर 20 शब्दों से अधिक का नहीं होना चाहिए ।
- (v) प्रश्न संख्या 11 से 20 तक लघु-उत्तर वाले प्रश्न हैं और प्रत्येक प्रश्न के 3 अंक हैं । इनमें से प्रत्येक प्रश्न का उत्तर 80 शब्दों से अधिक का नहीं होना चाहिए ।
- (vi) प्रश्न संख्या 21 से 25 तक लंबे उत्तर वाले प्रश्न हैं और प्रत्येक प्रश्न के 5 अंक हैं । इनमें से प्रत्येक प्रश्न का उत्तर 150 शब्दों से अधिक का नहीं होना चाहिए ।
- (vii) प्रश्न संख्या 26 मानचित्रों पर दिए गए भौगोलिक लक्षणों को पहचानने या स्थिति दिखाने और नामांकन करने से संबंधित है ।
- (viii) संसार और भारत के दिये गये रेखा-मानचित्रों को अपनी उत्तर-पुस्तिका में अवश्य नत्थी कीजिए ।
- (ix) रेखा-मानचित्र बनाने के लिए साँचों या स्टेंसिलों के प्रयोग की अनुमति दी जाती है ।

1. Which continent has the highest growth rate of population ? 1  
किस महाद्वीप की जनसंख्या वृद्धि दर सबसे अधिक है ?
2. Which country has the lowest sex ratio in the world ? 1  
विश्व में निम्नतम लिंग अनुपात वाला देश कौन सा है ?
3. Name the **two** activities on which the earliest human beings were dependent for their sustenance.  $\frac{1}{2} + \frac{1}{2} = 1$   
उन दो क्रियाओं के नाम बताइए, जिन पर आदिमकालीन मानव अपने जीवन-निर्वाह के लिए निर्भर रहते थे ।
4. What is a household industry ? 1  
घरेलू उद्योग क्या है ?

5. Give the significance of river St. Lawrence as an inland waterway. 1  
 आन्तरिक जलमार्ग के रूप में सेंट लॉरेन्स नदी का महत्त्व बताइए ।
6. Give the meaning of human settlement. 1  
 मानव बस्ती का अर्थ दीजिए ।
7. What is the contribution of India in the production of rice in the world ? 1  
 विश्व में चावल के उत्पादन में भारत का क्या योगदान है ?
8. Name the first major sea port of India developed after independence. 1  
 स्वतंत्रता के बाद भारत के प्रथम विकसित मुख्य समुद्री पत्तन का नाम बताइए ।
9. Which sector of economy accounted for the highest percentage of India's total value of exports in 2003-2004 ? 1  
 वर्ष 2003-2004 में भारत के कुल निर्यात मूल्य के लिए सबसे अधिक प्रतिशत अकेले किस आर्थिक क्षेत्र की भागीदारी अंकित की गई ?
10. Name the **two** metropolitan cities which are the main polluters of river Ganga before it reaches Varanasi. 1  
 वाराणसी में पहुँचने से पहले, उन दो महानगरों के नाम बताइए, जो गंगा नदी के मुख्य प्रदूषक हैं ।
11. Explain the concept of 'Determinism' with suitable examples. 3 × 1 = 3  
 'निश्चयवाद' के विचार की उपयुक्त उदाहरणों सहित व्याख्या कीजिए ।
12. Divide the population of the world into **two** groups on basis of residence. How do they differ from each other ? Explain any **two** points of difference. 1 + 2 = 3  
 निवास के आधार पर विश्व की जनसंख्या को दो वर्गों में विभाजित कीजिए । ये एक दूसरे से किस प्रकार भिन्न हैं ? भिन्नता के किन्हीं दो बिन्दुओं को स्पष्ट कीजिए ।

13. What is the importance of 'dairy farming'? Why is it mainly practised near urban and industrial centres of the world? Explain any **two** reasons. **1 + 2 = 3**

‘डेरी कृषि’ का क्या महत्त्व है? विश्व में यह नगरीय और औद्योगिक केन्द्रों के निकट मुख्य रूप से क्यों की जाती है? कोई दो कारण स्पष्ट कीजिए।

14. Study the table and answer the questions that follow : **1 + 1 + 1 = 3**

**World Imports and Exports (in millions of U.S. \$)**

	1955	1965	1975	1985	1995	2005
Exports	95,000	1,90,000	8,77,000	19,54,000	51,62,000	1,03,93,000
Total Merchandise						
Imports	99,000	1,99,000	9,12,000	20,15,000	52,92,000	1,07,53,000
Total Merchandise						

- (14.1) Which decade shows the highest increase of total value of imports and exports of goods and services?
- (14.2) How much is the increase in total value of exports during 1955 to 2005?
- (14.3) Why does the need for trade arise?

दी गई तालिका का अध्ययन कीजिए और उसके नीचे दिए गए प्रश्नों के उत्तर लिखिए :

**विश्व : आयात और निर्यात (यू.एस. दस लाख डॉलरों में)**

	1955	1965	1975	1985	1995	2005
निर्यात	95,000	1,90,000	8,77,000	19,54,000	51,62,000	1,03,93,000
कुल व्यापारिक माल						
आयात	99,000	1,99,000	9,12,000	20,15,000	52,92,000	1,07,53,000
कुल व्यापारिक माल						

- (14.1) किस दशक में आयात और निर्यात की गई वस्तुओं और सेवाओं के कुल मूल्य में सर्वाधिक आनुपातिक वृद्धि दर्शाई गई है?
- (14.2) 1955 से 2005 की अवधि में निर्यात मर्दों के कुल मूल्य में कितनी वृद्धि हुई है?
- (14.3) व्यापार की आवश्यकता क्यों होती है?

**Note :** The following question is for the **BLIND CANDIDATES** only, in lieu of Q.No. 14.

What is international trade ? Why does international trade exist ? Explain.

1 + 2 = 3

**नोट :** निम्नलिखित प्रश्न केवल दृष्टिहीन परीक्षार्थियों के लिए प्रश्न संख्या 14 के स्थान पर है ।

अन्तर्राष्ट्रीय व्यापार क्या है ? अन्तर्राष्ट्रीय व्यापार अस्तित्व में क्यों है ? स्पष्ट कीजिए ।

15. Mention the famous oil pipeline of the U.S.A. How are pipelines one of the most convenient mode of transport ? Explain any **four** points.

1 + 2 = 3

संयुक्त राज्य अमेरिका की प्रसिद्ध तेल पाइपलाइन का उल्लेख कीजिए । पाइपलाइनें परिवहन के सबसे अधिक सुविधाजनक माध्यमों में से कैसे हैं ? किन्हीं चार बिन्दुओं को स्पष्ट कीजिए ।

16. Why are ports called 'gateways of international trade' ? Explain any **three** reasons.

3 × 1 = 3

पत्तनों को 'अन्तर्राष्ट्रीय व्यापार के प्रवेश द्वार' क्यों कहते हैं ? किन्हीं तीन कारणों की व्याख्या कीजिए ।

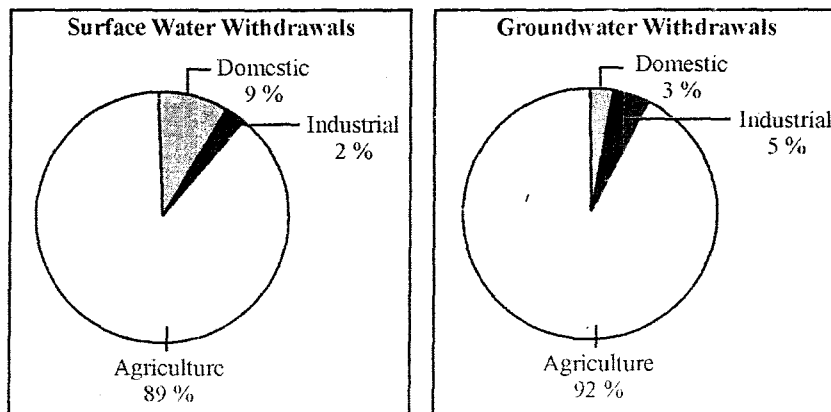
17. Explain any **three** factors that determine the type of rural settlements in India.

3 × 1 = 3

भारत में ग्रामीण बस्तियों के प्रकार को निर्धारित करने वाले किन्हीं तीन कारकों की व्याख्या कीजिए ।

18. Study the given diagram and answer the questions that follow :

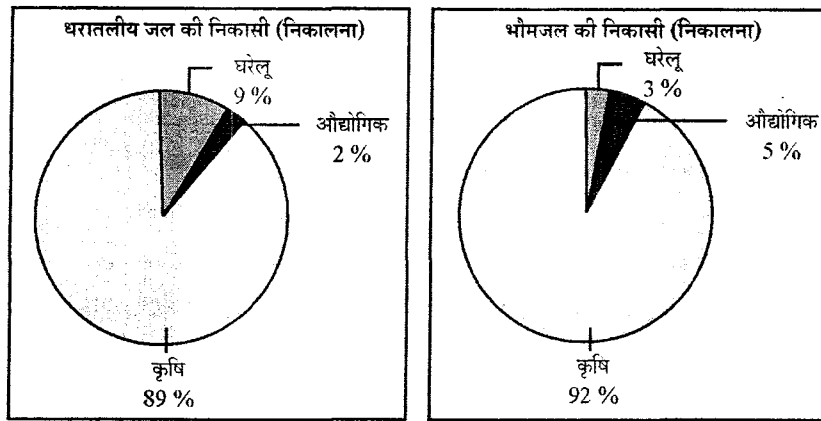
1 + 2 = 3



(18.1) Which sector accounts for most of the groundwater utilisation ? Give one reason.

(18.2) Why is the share of water utilization in domestic sector lower in groundwater as compared to surface water ?

दिए गए आरेख का अध्ययन कीजिए और उसके नीचे दिए गए प्रश्नों के उत्तर लिखिए :



- (18.1) कौन सा क्षेत्र भौमजल निकासी का सबसे अधिक उपभोग करता है ? एक कारण दीजिए ।  
 (18.2) घरेलू क्षेत्र में भौमजल का उपयोग, धरातलीय जल उपयोग की तुलना में कम क्यों है ?

**Note:** The following question is for the **BLIND CANDIDATES** only, in lieu of Q. No. 18 :

Why is the demand of water for irrigation increasing day by day in India ? Explain any **three** reasons. **3 × 1 = 3**

निर्देश : निम्नलिखित प्रश्न केवल दृष्टिहीन परीक्षार्थियों के लिए प्रश्न सं. 18 के स्थान पर है ।

भारत में सिंचाई के लिए जल की माँग दिन-प्रतिदिन क्यों बढ़ रही है ? कोई **तीन** कारण स्पष्ट कीजिए ।

19. Explain any **three** major objectives of the 'New Industrial Policy' of India, which was announced in 1991. **3 × 1 = 3**  
 सन् 1991 में घोषित की गई भारत की 'नई औद्योगिक नीति' के किन्हीं **तीन** मुख्य उद्देश्यों को स्पष्ट कीजिए ।
20. Describe any **three** major problems related to water in India. **3 × 1 = 3**  
 भारत में जल से सम्बन्धित किन्हीं **तीन** मुख्य समस्याओं का वर्णन कीजिए ।
21. "Services are very important aspect for economic development of a country." Analyse the statement by explaining **five** components of a service sector. **5 × 1 = 5**  
 "किसी देश के आर्थिक विकास के लिए सेवाएँ बहुत महत्वपूर्ण हैं ।" सेवा क्षेत्र के **पाँच** घटकों की व्याख्या करते हुए, इस कथन का विश्लेषण कीजिए ।
22. What are rural settlements ? What are the **two** types of the rural settlements in the world ? How are they different from each other ? Give **three** points of distinction. **1 + 1 + 3 = 5**  
 ग्रामीण बस्तियाँ क्या हैं ? विश्व में दो प्रकार की ग्रामीण बस्तियाँ कौन सी हैं ? ये बस्तियाँ एक दूसरे से किस प्रकार भिन्न हैं ? भिन्नता बताने वाले **तीन** बिन्दु दीजिए ।

23. Explain with examples the occupational structure of India's population. 5 × 1 = 5  
भारत की जनसंख्या के व्यावसायिक संघटन की उदाहरणों सहित व्याख्या कीजिए ।
24. Describe any **five** major problems related to Indian Agriculture. 5 × 1 = 5  
भारतीय कृषि से सम्बन्धित किन्हीं पाँच मुख्य समस्याओं का वर्णन कीजिए ।
25. Define the term 'Road Density'. Explain with examples the two main determinants of road density in India. 1 + 2 + 2 = 5  
'सड़क घनत्व' शब्द की परिभाषा दीजिए । भारत में सड़कों के घनत्व के दो मुख्य निर्धारकों की उदाहरणों सहित व्याख्या कीजिए ।
26. (26.1) In the given political **Outline Map of the World**, the following four features are shown :  $4 \times \frac{1}{2} = 2$   
(A) The major area of commercial livestock rearing.  
(B) The major Sea Port.  
(C) The major Air Port.  
(D) The Mega City  
Identify these features and write their correct names on the lines marked near each feature.
- (26.2) In the given political **Outline Map of India**, locate and label the following with appropriate symbols : 3 × 1 = 3  
(i) The State having lowest density of population.  
(ii) The oil refinery located in West Bengal.  
(iii) The major sea port located in Goa.
- (26.1) संसार के दिए गए, राजनीतिक रेखा-मानचित्र में निम्नलिखित चार लक्षण दिखाए गए हैं :  
(A) वाणिज्य पशुधन पालन का एक प्रमुख क्षेत्र ।  
(B) प्रमुख समुद्री पत्तन ।  
(C) प्रमुख वायु पत्तन ।  
(D) मेगा नगर ।  
इन लक्षणों की पहचान कीजिए और प्रत्येक लक्षण के निकट खींची गई रेखा पर उसका सही नाम लिखिए ।
- (26.2) दिए गए भारत के राजनीतिक रेखा-मानचित्र में निम्नलिखित की स्थिति उपयुक्त चिह्नों से दिखाइए और उनके नाम लिखिए :  
(i) सबसे कम जनसंख्या घनत्व वाला राज्य ।  
(ii) पश्चिमी बंगाल में स्थित तेल परिष्करण शाला ।  
(iii) गोवा में स्थित प्रमुख समुद्री पत्तन ।

**Note:** The following questions are for the **BLIND CANDIDATES** only, in lieu of Q.No. 26 :

**नोट:** निम्नलिखित प्रश्न केवल दृष्टिहीन परीक्षार्थियों के लिए प्रश्न संख्या 26 के स्थान पर है :

(26.1) Name any one major sea port located on the western coast of North America.

(26.2) Name the coastal mega city of Brazil.

(26.3) Which state of India has the lowest density of population ?

(26.4) Name the oil refinery located in West Bengal.

(26.5) Which is the major sea port in Goa ?

**5 × 1 = 5**

(26.1) उत्तर अमेरिका के पश्चिमी तट पर स्थित किसी एक समुद्री पत्तन का नाम बताइए ।

(26.2) ब्राजील के तटीय मेगा नगर का नाम बताइए ।

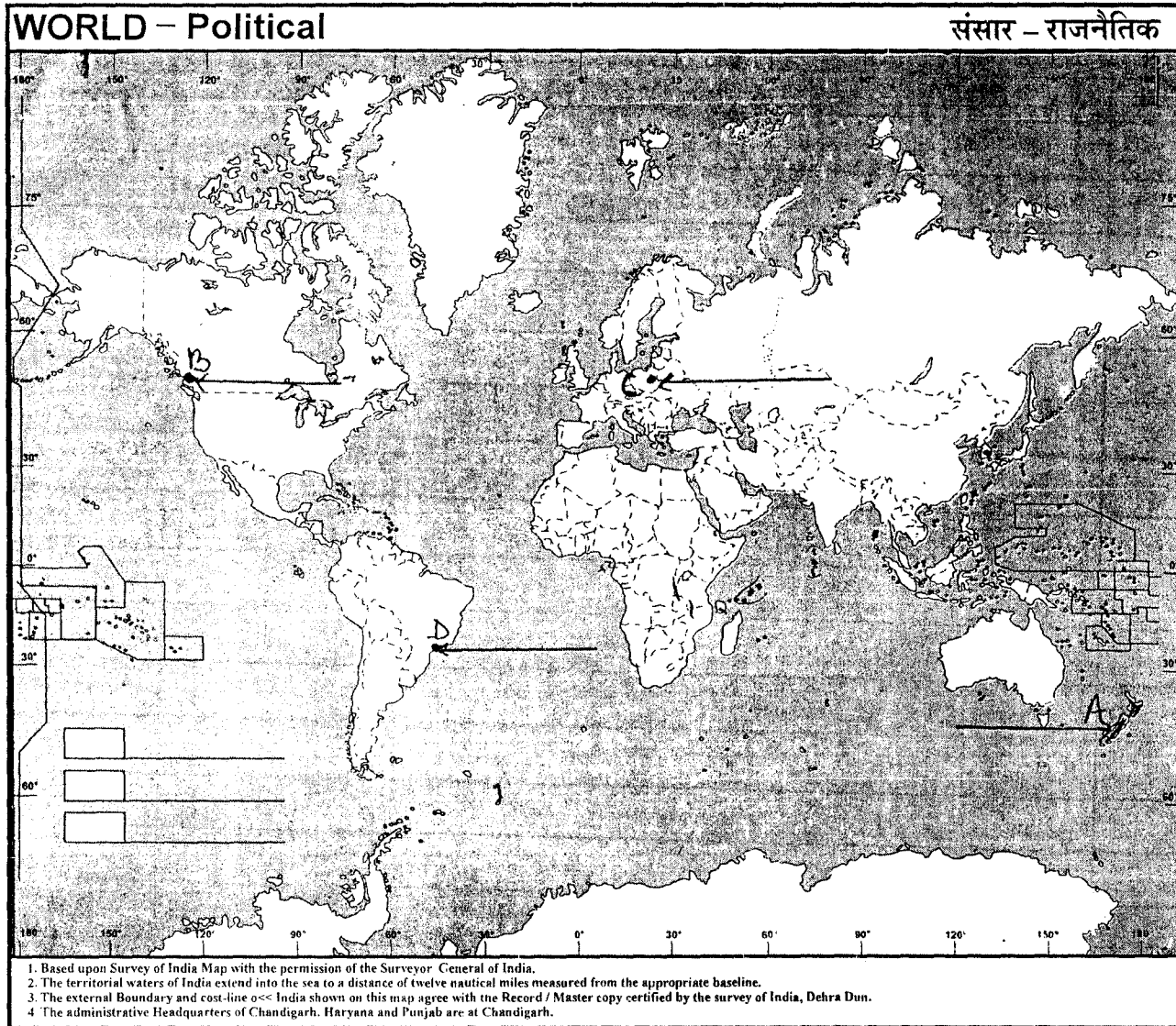
(26.3) भारत के किस राज्य में जनसंख्या का घनत्व सबसे कम है ?

(26.4) पश्चिमी बंगाल में स्थित तेल परिष्करण शाला का नाम बताइए ।

(26.5) गोवा में कौन सा प्रमुख समुद्री पत्तन है ?



----- Cut Here ----- यहाँ से काटें ----- Cut Here ----- यहाँ से काटें -----

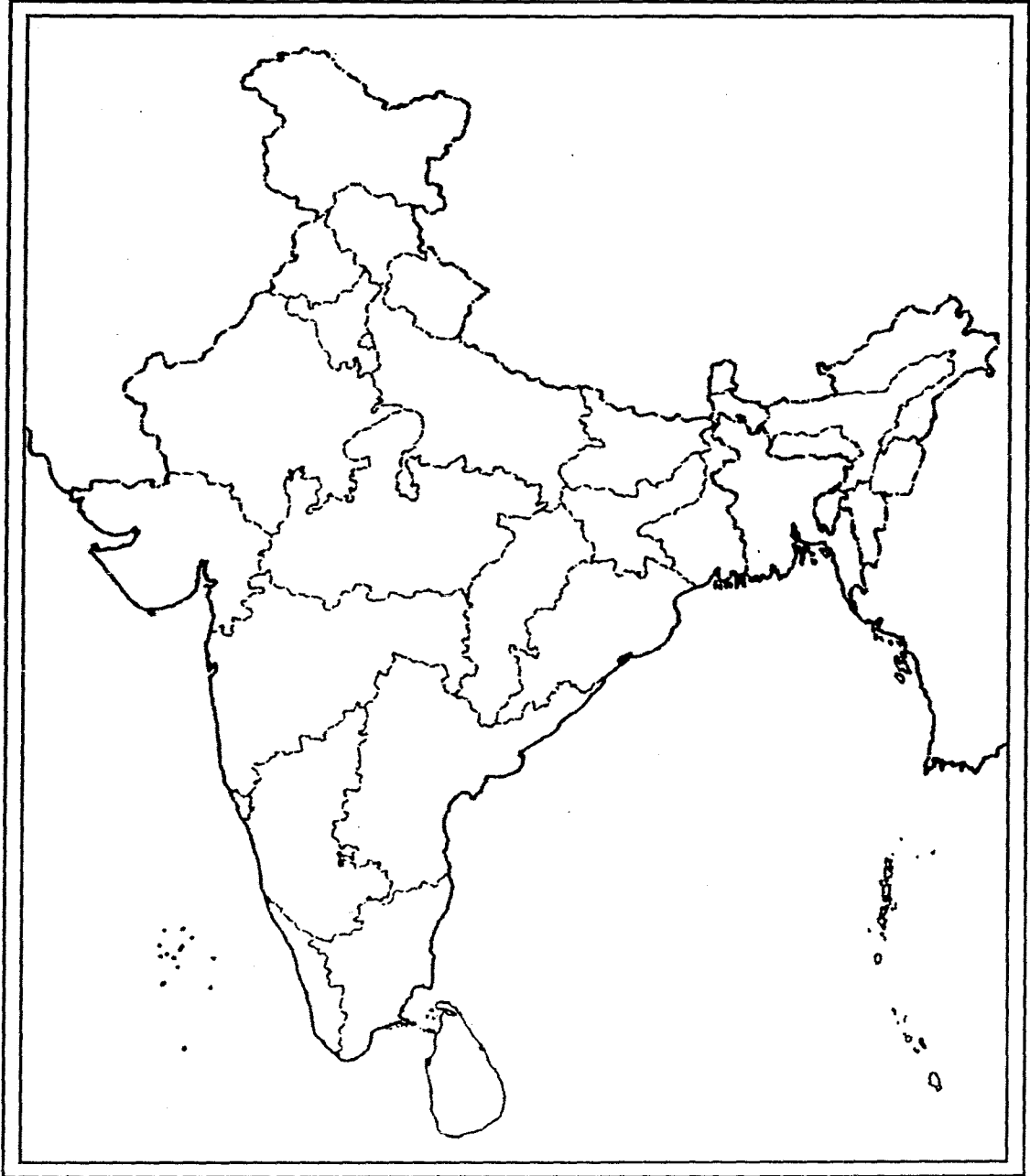


Map for Q. No. 26.1  
 प्रश्न सं. 26.1 के लिए मानचित्र

Map for Q. No. 26.2  
प्रश्न सं. 26.2 के लिए मानचित्र

Outline Map of India (Political)

भारत का रेखा-मानचित्र (राजनीतिक)



यहाँ से काटे

Cut Here

यहाँ से काटे

Cut Here